



Профильный предмет  
10 класс

Задание по ГЕОГРАФИИ 2025 ДЕМО  
Максимальное количество баллов: 20

**Задание 1. Максимум 5 баллов, 0.5 балла за каждое верно вставленное слово или словосочетание.**

**Вставьте пропущенные слова:**

Государство \_\_\_\_\_ протягивается на 4000 км вдоль юго-западного побережья материка \_\_\_\_\_. На территории преобладает высокогорный рельеф. Эта горная цепь - \_\_\_\_\_, протягивающаяся с севера на юг и проходящая через территории еще 7 государств, является частью крупнейшей горной системы в мире. Территория государства лежит в трех климатических поясах. На севере, в \_\_\_\_\_ поясе располагается пустыня \_\_\_\_\_ – территория с наименьшим показателем \_\_\_\_\_. Уникальность этой пустыни в том, что она вся протягивается вдоль морского побережья. И именно \_\_\_\_\_ холодное течение оказывает значительное влияние на такие низкие показатели.

Благодаря особенностям рельефа и тектонического строения, государство занимает первое место в мире по добыче \_\_\_\_\_. Кроме этого металла на территории страны добывается еще два полезных ископаемых: \_\_\_\_\_ – необходимая для производства пороха и \_\_\_\_\_ – естественное удобрение, запасы которого сформировались на побережье благодаря птичьим базарам. Именно из-за двух последних ископаемых в конце 19 века разгорелась война между \_\_\_\_\_ и \_\_\_\_\_, в результате которой последняя окончательно потеряла выход к морю.

**Задание 2. Максимум 5 баллов, (по 0.5 балла за каждую правильно заполненную ячейку и 0,5 балла за определение реки)**

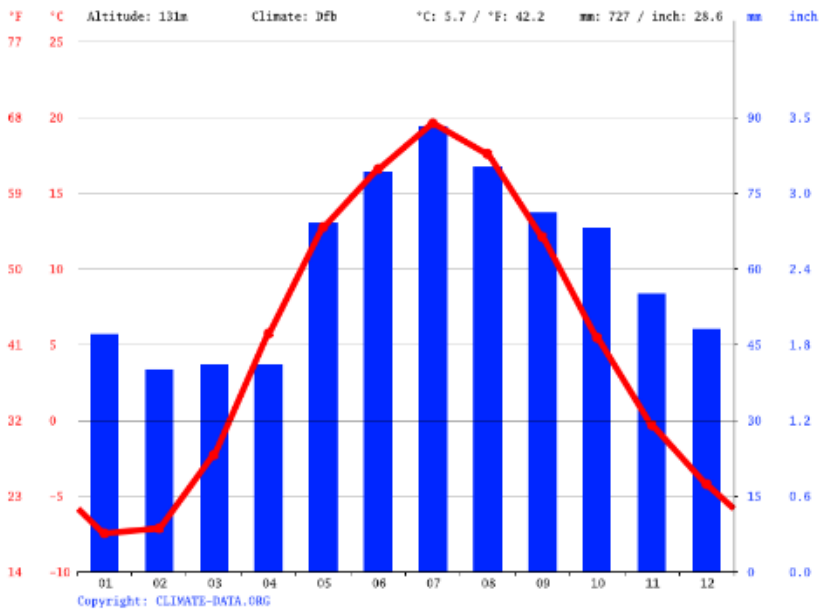
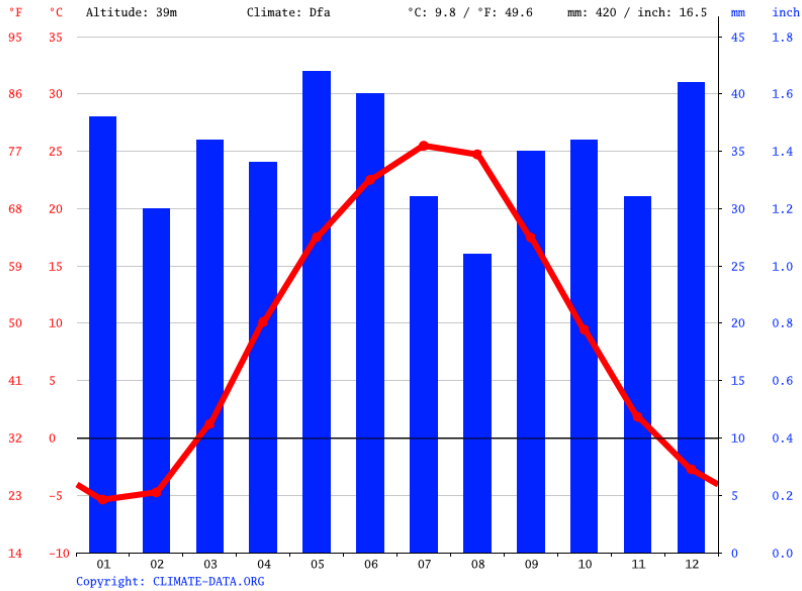
Перед вами данные 3х городов России, располагающихся на одной крупной реке. Определите города по краткому описанию и вставьте их в первую строчку таблицы в порядке от верховьев к устью реки. Во второй строчке вставьте номера климатограмм этих городов. В третью строчку впишите главные отрасли хозяйственной специализации этих городов. Определите название реки, на которой располагаются эти города.

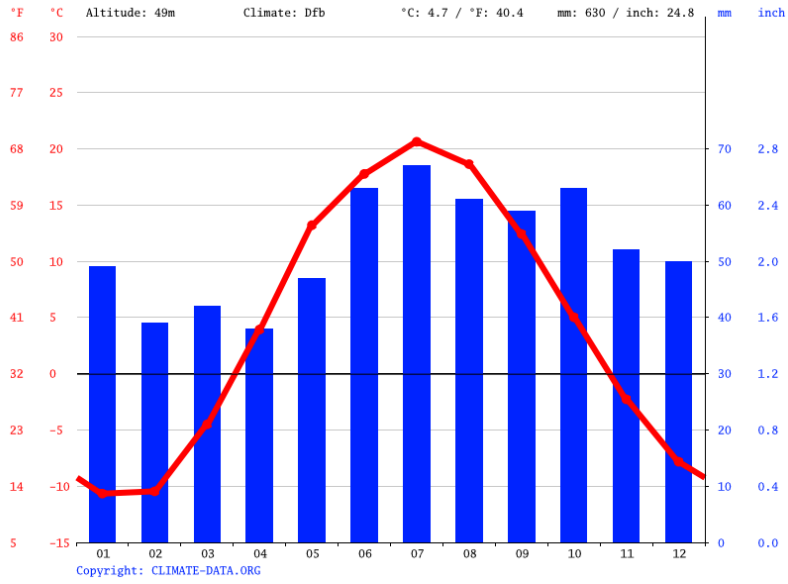
А. Этот город – один из старейших городов России, в 2005 году отпраздновал тысячелетие. Является крупнейшим городом на реке. Город является столицей национального субъекта федерации, ранее был столицей ханства. За свою тысячелетнюю историю название города ни разу не менялось. В современной России город является одним из главных туристических центров. Кремль является объектом всемирного наследия ЮНЕСКО. Это один из главных религиозных центров страны, в котором представлены православие и ислам. 55% населения составляют русские и 40% - представители титульной нации. В городе неоднократно проводились крупные спортивные мероприятия в том числе Всемирная летняя олимпиада и матчи чемпионата мира по футболу.

Б. Основан был в 1589 году как город Царицын, а впоследствии сменил еще два названия. При этом 8 раз в году городу возвращают одно из его прежних названий, связанных с событиями Великой Отечественной войны. Этот город-герой стал одним из символов победы над Германией. Этот город-миллионник является столицей крупной области на юго-востоке европейской части России. Через него проходят крупные автомобильные и железнодорожные магистрали, связывающие Россию с Казахстаном. Является крупным речным портом.

В. Этот город старше Москвы на 12 лет. С 1247 года — столица Великого княжества. Во время монголо-татарского ига стал одним из центров сопротивления и соперничала с Москвой за статус политического центра Северо-Восточной Руси. На данный момент численность населения города чуть больше 400 000 человек. Сейчас это крупный промышленный и культурный центр, является крупным транспортным узлом на железнодорожной магистрали Москва – Санкт-Петербург.

### Климатограммы городов





III

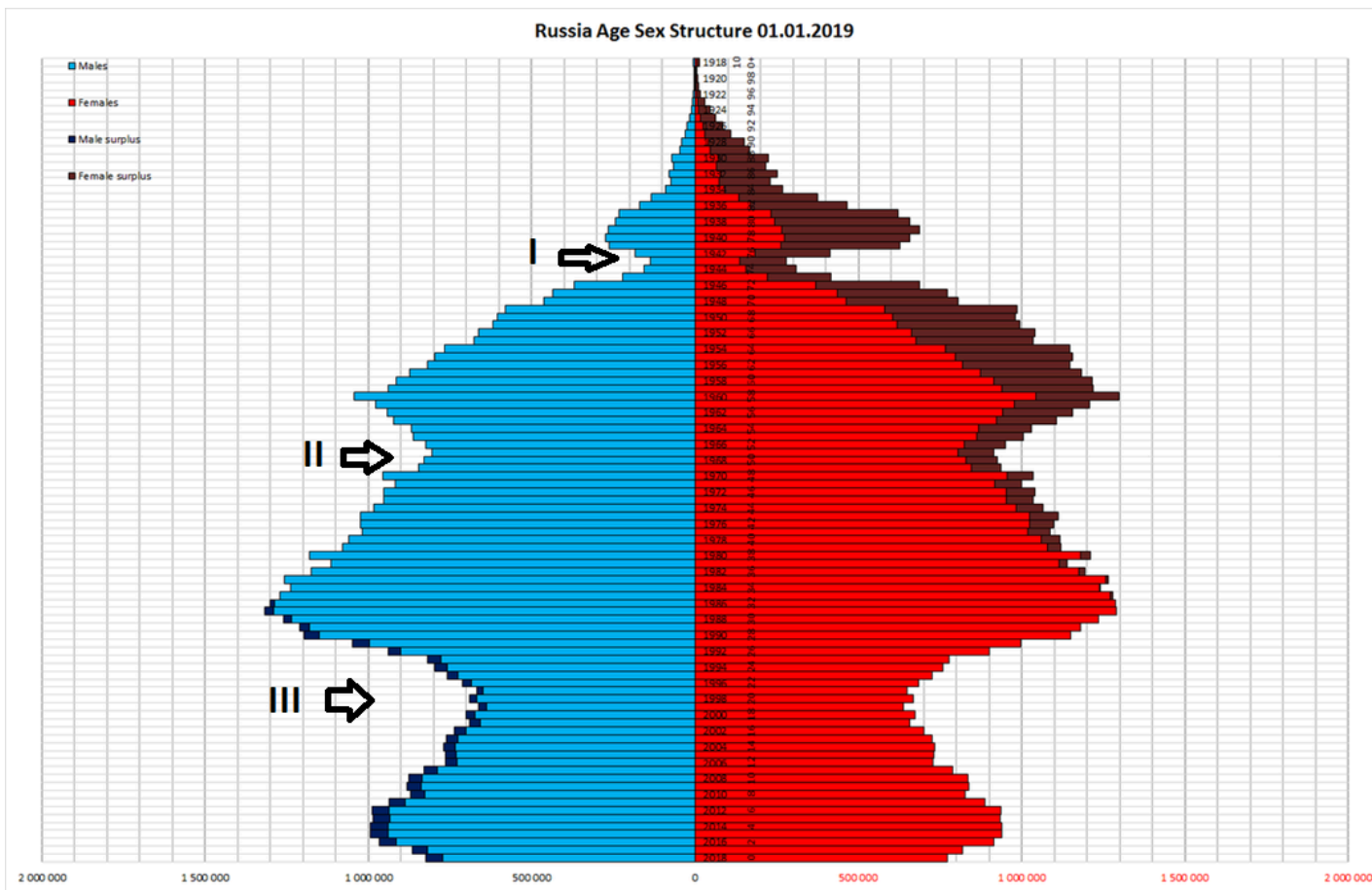
### Специализация хозяйства

1. Электроэнергетика, производство тракторов, нефтепереработка, химическая промышленность.
2. Железнодорожное машиностроение, производство синтетического волокна, пищевая промышленность.
3. Химия органического синтеза, производство пороха, авиастроение.

Название города в порядке от верховья к устью			
Номер климатограммы, соответствующей городу			
Отрасли промышленной специализации города			

Название реки \_\_\_\_\_

### Задание 3. Максимум 5 баллов



Перед вами демографическая пирамида России на 2019 год.

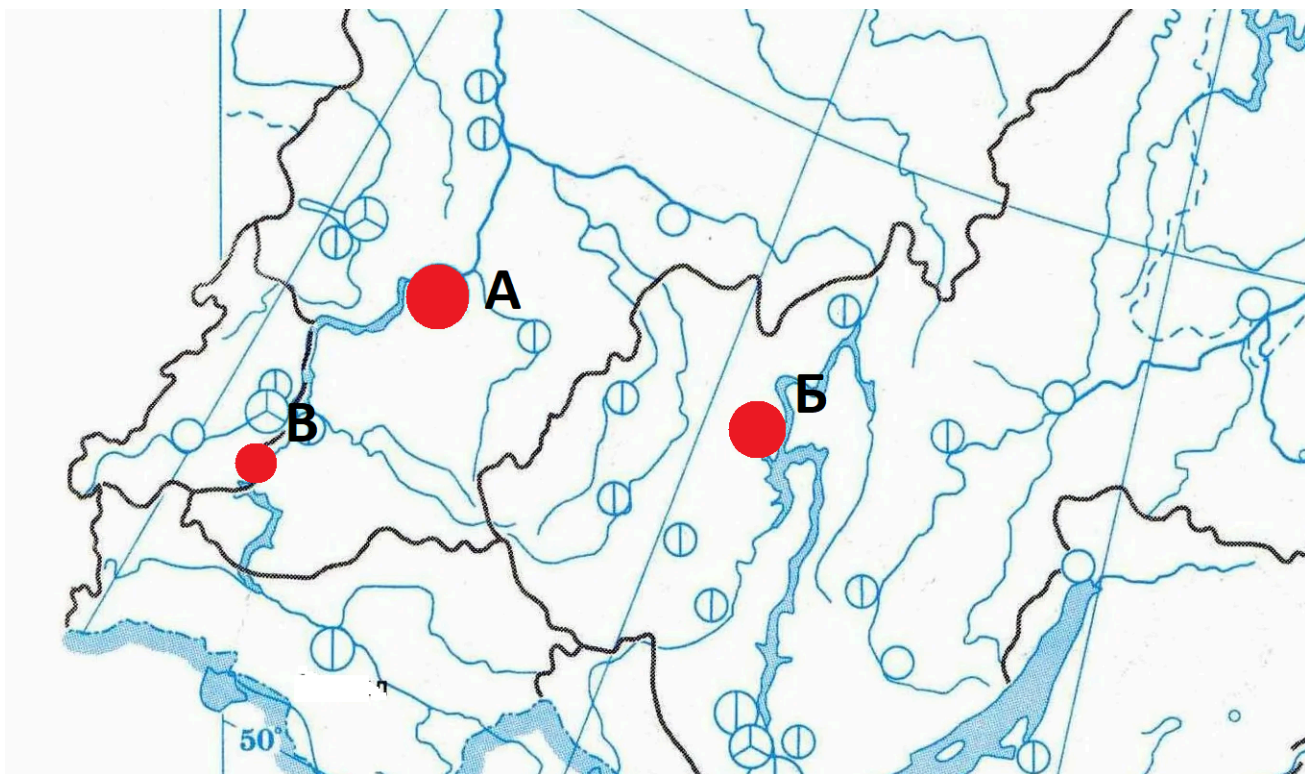
1. Объясните причины снижения численности населения в каждой из возрастных групп, обозначенных цифрами. **За каждую верную причину 0.5 балла. (не более 2,5 балла)**
2. Объясните, из-за какой демографической особенности населения в старших возрастах наблюдается значительно превышение числа женщин над числом мужчин. **0.5 балла.**
3. В 2018 году и сейчас наблюдается сокращение численности населения и снижение рождаемости. Спрогнозируйте, в каком году и по каким причинам можно ожидать увеличение рождаемости (по сравнению с предыдущими годами), и ответьте, приведет ли увеличение этого показателя к увеличению общей численности и почему. **1 балл**
4. Спрогнозируйте, как изменится соотношение рабочей силы и людей нетрудоспособного возраста в ближайшие 10 лет. Аргументируйте свою точку зрения. **1 балл.**

### Задание 4. Максимум 5 баллов

Перед вами фрагмент карты одного из экономических районов РФ. На карте выделены два города: А и Б. Один из них является столицей субъекта, другой – районным центром. В одном из них численность населения более миллиона, в другом менее 300 000. Оба города имеют по три сходных отрасли промышленной специализации.

1. Назовите экономический район, изображенный на карте (**0,5 балла**)
2. Назовите города (**по 0,5 балла за каждый**)
3. Назовите три сходных отрасли промышленной специализации (**по 0,5 балла за каждую**).
4. Объясните факторы размещения названных отраслей. (**по 0,5 балла за каждое объяснение**).

5. Назовите город В, который имеет 2 из трех сходных отраслей специализации. (0,5 балла)



Город А	Город Б
Название экономического района	
1 отрасль специализации	Фактор размещения
2 отрасль специализации	Фактор размещения
3 отрасль специализации	Фактор размещения
Город В	

<b>Задание 1</b>	балл	Пояснение
	0	Нет правильных ответов
	0,5	В тексте вставлено одно верное (подходящее по смыслу) слово или словосочетание
	5	Максимальный балл при всех верно вставленных словах
<b>Задание 2</b>	балл	Пояснение
	0	Ни одна ячейка не заполнена или указаны неверные ответы
	0,5	Верно определена река
	1	Верно указаны города, но порядок городов по колонкам не верный
	4	Порядок городов нарушен но остальные ячейки соответствуют городу
	5	Максимальный балл за задание
<b>Задание 3</b>	балл	Пояснение
	0	Нет правильных ответов
3.1	0,5	Верно заполнен один элемент
3.2	0,5	Верно указана причина превышения численности женщин над мужчинами (продолжительность жизни)
3.3	0,5	Верно указан год и причина роста рождаемости
	0,5	Верно указано на отсутствие роста общей численности и дано верное объяснение
3.4	1	Дан верный прогноз на уменьшение доли трудоспособного населения и рост нетрудоспособного. Дана верная аргументация
	5	Максимальный балл за задание
<b>Задание 4</b>	0	Нет правильных ответов
4.1	0,5	Верно назван экономический район
	0,5	Верно указана отрасль специализации
4.2	0,5	Фактор размещения соответствует отрасли
	0,5	Верно назван город